


Czwartek, 14.05

Rozwiąż zadania

11 → Popatrz na skorupki i zgadnij, ile kurczątek się wykluło. Nie wszystkie kurczątka są na podwórku. Ile uciekło?



Jest ... połówek skorupki.

Wykluło się z nich ... kurcząt.

Na podwórku jest tylko ... kurczątek,  
... uciekły.

Wykonaj działanie:

$$\dots + \dots = \dots$$


tyle jest  
na podwórku

tyle  
uciekło

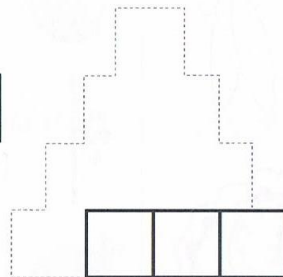
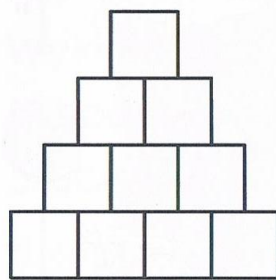
tyle się  
wykluło

## Rozwiąż zadania

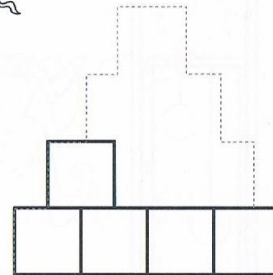
7 → W których miejscach na osi liczbowej powinny znaleźć się latawce? Połącz je liniami z osią.



8 → Ile kostek brakuje do dokończenia każdej z piramid? Policz i uzupełnij działania pod piramidami.



$$3 + \dots = \dots$$



$$5 + \dots = \dots$$

