

Drodzy Uczniowie,
chciałabym zachęcić Was do wzięcia udziału w konkursie matematycznym. Mam nadzieję, że niektórzy z Was znajdą trochę czasu i podejmą próbę rozwiązania poniższych zadań. Na najlepszych czekają nagrody.

Rozwiązane zadania proszę przysyłać zdjęciem na mojego Mesengera lub na numer telefonu 662 973 949.

Jeszcze raz zachęcam gorąco i życzę Wesołych Świąt



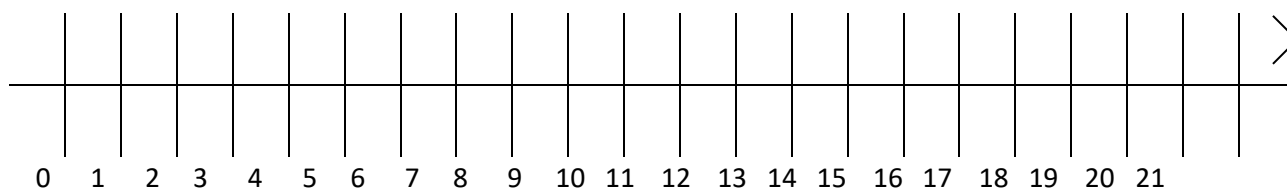
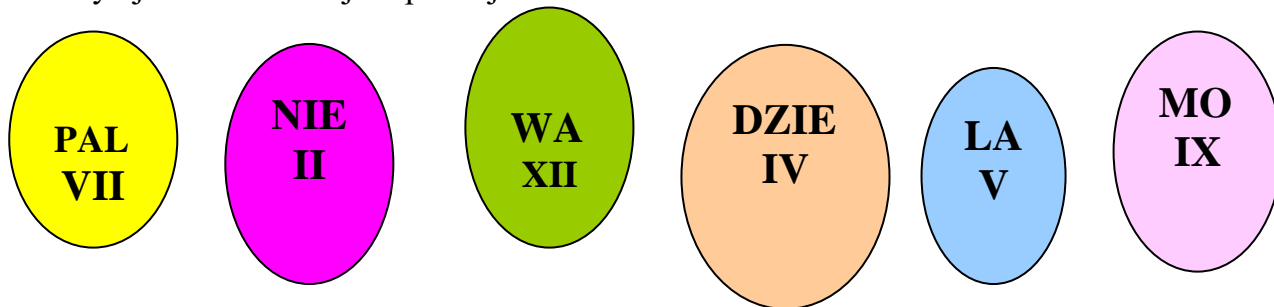
Zdrowych, Pogodnych Świąt Wielkanocnych,
pełnych wiary, nadziei i miłości.
Radosnego, wiosennego nastroju,
serdecznych spotkań w gronie rodziny
i wśród przyjaciół oraz wesołego „Alleluja”.

Pozdrawiam i życzę powodzenia

Marzena Szymkowiak

Zadanie 1

Zaczep pisanki łącząc liczbę rzymską na jajku z odpowiadającą jej liczbą arabską na osi liczbowej i odczytaj hasło od lewej do prawej.



Hasło:

Zadanie 2

Działania z wynikiem 18 pokoloruj. Litery czytane od lewej do prawej utworzą hasło.

| | | | | | |
|-----------|-----------|----------|-----------|-------------|-------------|
| $82 - 64$ | $73 - 42$ | $9 * 2$ | $61 - 43$ | $24 \div 4$ | $36 \div 2$ |
| W | A | I | E | R | L |

| | | | | | |
|-------------|-----------|-----------|-------------|-----------|-----------------|
| $3 \cdot 6$ | $30 - 12$ | $21 - 12$ | $7 + 7 + 4$ | $34 - 16$ | $2 \cdot 5 + 8$ |
| K | A | E | N | O | C |

Hasło

Zadanie 3

We wtorek sprzedano 35 baranków cukrowych, a w środę 3 razy więcej. Ile łącznie baranków cukrowych sprzedano we wtorek i środę?

Wtorek:

Środa:

Odpowiedź:



Zadanie 4

Wykonaj działania.

| | | | | | | | | |
|----|----|---|----|----|---|----|---|----|
| *6 | 15 | 0 | 10 | 20 | 4 | 11 | 8 | 17 |
| | | | | | | | | |
| | J | K | C | Z | E | A | Z | A |

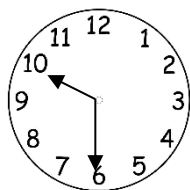
Wyniki uporządkuj od największego do najmniejszego wraz z odpowiadającymi im literami i odczytaj hasło.

| | | | | | | | |
|--|--|--|--|--|--|--|--|
| | | | | | | | |
| | | | | | | | |

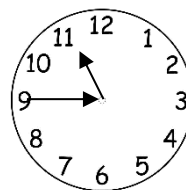
Rozwiązanie:.....

Zadanie 5

W poniedziałek w telewizji TVP Kultura zdalne lekcje dla uczniów szkoły podstawowej trwały w czasie zaznaczonym na tarczach zegara. Odczytaj z tarczy zegara, o której godzinie rozpoczęły się i o której się zakończyły. Zapisz te godziny na zegarze elektronicznym.



godzina rozpoczęcia

:

godzina zakończenia

:

Oblicz ile czasu trwały zdalne lekcje w poniedziałek.

Rozwiązanie

Zadanie 6

Mama kupiła w sklepie następujące słodycze: paczkę jajeczek Merci, 3 jajka niespodzianki, 4 baranki cukrowe i zajaczkę z czekolady. Ile zapłaciła za zakupy?



Merci 14,50zł



Jajko 4zł za sztukę



Baranek 3,50zł za sztukę



Zajaczek 7,80zł